



จงเลือกคำตอบที่ถูกต้องที่สุดเพียงคำตอบเดียว

1. วงปีพาทย์เครื่องคู่จะแตกต่างจากวงปีพาทย์เครื่องห้า อย่างไร

1. จะเพิ่มระนาดทุ้มปี่ในและระนาดเอก
2. จะเพิ่มระนาดทุ้ม ปี่นอกและฆ้องวงใหญ่
3. จะเพิ่มระนาดทุ้ม ปี่นอก และฆ้องวงเล็ก
4. ไม่แตกต่างกัน

2. ถ้าสมโชคได้รับการไหว้วานให้ไปนำวงดนตรีมา บรรเลงในงานสวดพระอภิธรรม สมโชคควรนำวงดนตรีในข้อใดมาบรรเลง

1. ปี่พาทย์มอญ หรือ ปี่พาทย์ดึกดำบรรพ์
2. ปี่พาทย์ นางหงส์ หรือ ปี่พาทย์ชาตรี
3. ปี่พาทย์มอญหรือ ปี่พาทย์เสภาเครื่องใหญ่
4. ปี่พาทย์นางหงส์ หรือ ปี่พาทย์มอญ

3. การแสดงดนตรีไทยโดยการมีลักษณะการบรรเลงเพลงโดยใช้ไม้แข็งตีระนาดเอกฆ้องวงใหญ่ ฆ้องวงเล็ก คือวงดนตรีในข้อใด

1. วงปีพาทย์ดึกดำบรรพ์

2. วงปีพาทย์เครื่องห้าอย่างเบา

3. วงปีพาทย์เครื่องห้า

4. วงมโหรี

4. เครื่องดนตรีใดทำหน้าที่ดำเนินทำนองแบบโหยบ้างเก็บบ้าง และเป็นผู้นำในวงปีพาทย์

1. ปี่ใน

2. ฆ้องวงใหญ่

3. ระนาดเอก

4. ระนาดเอกเหล็ก

5. ดนตรีในข้อใดที่เกิดจากวงดนตรีที่ใช้ในการเดินสวนสนามของทหาร

1. วงเจี๊ซ

2. วงซาร์โคว์

3. วงมิวสิกแบนด์

4. วงโยธวาทิต

6. ประเภทของวงดนตรีสากล จัดแบ่งวงดนตรีเป็นกี่วง

1. แบ่งเป็น4วง

2. แบ่งเป็น6วง

3. แบ่งเป็น8วง

4. แบ่งเป็น 10 วง

7. การบรรเลงของวงแจ๊สเบบอร์มีวลีจะมีเครื่องดนตรีในกลุ่มใดที่นิยมนำมาบรรเลง

1. กลุ่มเครื่องลมไม้

2. กลุ่มเครื่องกระทบ

3. กลุ่มเครื่องสาย (String)

4. กลุ่มคีย์บอร์ด

8. วงดนตรีแจ๊สเกิดจากคนพื้นเมืองกลุ่มใดครั้งแรก

1. ชนชาวเยอรมัน

2. ชนชาวนิโกร

3. ชนชาวรัสเซีย

4. คนพื้นเมืองเอเชีย

9. วงดนตรีที่ใช้เครื่องเป่าโลหะจำนวนมากเป็นหลักคือวงใด

1. Brass Band

2. Combo Band

3. Jazz Band

4. String Band

10. วงดนตรีในซอใดที่ใช้เครื่องดนตรีที่เหมาะสมกับการแสดงกลางแจ้ง

1. วงซิมโฟนีออร์เคสตราsymphony

2. วงแจ๊ซ(Jazz Band)

3. วงคอมโบ แบนด์ (Combo Band)

4. วงบราสแบนด์(Brass Band)

11. ข้อใดกล่าวถึงความหมายของ "สุนทรียะ" ได้ถูกต้อง ?

1. สิ่งที่เป็นคุณค่าทางสังคม

2. สิ่งที่เกี่ยวข้องกับคุณงามความดี

3. สิ่งที่เกี่ยวข้องกับศีลธรรมจรรยา

4. สิ่งที่เกี่ยวข้องกับความไพเราะงดงาม

12. การบรรเลงดนตรีรวมวงต้องเคารพกฎเกณฑ์ข้อใดเป็นสำคัญ ?

1. การมีสมาธิแน่นแน

2. การมีระเบียบวินัย

3. การมีทักษะความสามารถ

4. การมีความเชื่อมั่นในตนเอง

13. การแบ่งยุคสมัยทางดนตรีไทยนิยมแบ่งออกเป็นกี่สมัย

1. 2 สมัย

2. 3 สมัย

3. 4 สมัย

4. 5 สมัย

14. เพลงใดที่ปรากฏในสมัยรัตนโกสินทร์

1. เพลงเถา

2. เพลงนางนาค

3. เพลงสมีงทอง

4. เพลงยี่ก๊กแปดบาท

15. บุคคลใ้รับรู้สุนทรียะทางดนตรีได้ลึกซึ้งที่สุด ?

1. เมย์ ชอบดนตรีร็อกทุกประเภท

2. เฟิร์น ชอบเพลงคลาสสิกมากที่สุด

3. เซอริ ชอบนักร้องเพลงป๊อปของเกาหลี

4. ฝน ชอบวงดนตรีประเภทบอยแบนด์

16. การรับรู้ความงามของคนตรีขึ้นอยู่กับปัจจัยข้อใดเป็นสำคัญ ?

1. ศาสนา

2. อารมณ์

3. การศึกษา

4. เศรษฐกิจ

17. องค์ประกอบของคนตรีที่ได้รับความนิยมมากที่สุดในการฟังเพลงคือข้อใด ?

1. เครื่องดนตรี

2. ทำนองเพลง

3. เคนต์เตอร์พอยท์

4. ผู้ประพันธ์เพลง

18. ทฤษฎีดนตรีสากลมีพื้นฐานของศาสตร์ในข้อใด ?

1. ภาษาศาสตร์

2. ดรรกศาสตร์

3. วิทยาศาสตร์

4. สังคมศาสตร์

19. เครื่องหมายประจำจังหวะบอกให้ทราบถึงสิ่งใด ?

1. การกำหนดความเร็ว

2. การเลือกระดับเสียงนักร้อง

3. อัตราจังหวะของบทเพลง

4. การใช้เครื่องดนตรีในการบรรเลง

20. การอ่านโน้ตแบบ "Sight reading" มีลักษณะสำคัญอย่างไร ?

1. การอ่านโน้ตแบบพื้นฐานเบื้องต้น

2. การอ่านโน้ตแบบคั่นคั่น ไม่มั่นใจ

3. การอ่านโน้ตอย่างเชี่ยวชาญตลอดบทเพลง

4. การอ่านโน้ตและปฏิบัติเครื่องดนตรีในทันที

21.  หมายถึงข้อใดต่อไปนี้

1. ตัวหยุดตัวกลม

2. ตัวหยุดตัวขาว

3. ตัวหยุดตัวดำ

4. ตัวหยุดตัวเข็บบีต 1 ชั้น

22.  หมายถึงข้อใดต่อไปนี้

1. เครื่องหมาย ชาร์ป

2. เครื่องหมาย แฟล็ต

3. เครื่องหมาย เนเจอร์ล

4. เครื่องหมาย ประจูดิ

23.  หมายถึงข้อใดต่อไปนี้

1. ตัวหยุดตัวกลม

2. ตัวหยุดตัวขาว

3. ตัวหยุดตัวดำ

4. ตัวหยุดตัวเข็บบีต 1 ชั้น

24.  หมายถึงข้อใดต่อไปนี้

1. ตัวหยุดตัวกลม

2. ตัวหยุดตัวขาว

3. ตัวหยุดตัวดำ

4. ตัวหยุดตัวเข็บบิต 1 ชั้น


25.  หมายถึงข้อใดต่อไปนี้

1. ตัวหยุดตัวกลม

2. ตัวหยุดตัวขาว

3. ตัวหยุดตัวดำ

4. ตัวหยุดตัวเข็บบิต 1 ชั้น


26.  หมายถึงข้อใดต่อไปนี้

1. ตัวโน้ตตัวกลม

2. ตัวโน้ตตัวขาว

3. ตัวโน้ตตัวดำ

4. ตัวโน้ตตัวเข็บบิต 1 ชั้น

27.  หมายถึงข้อใดต่อไปนี้

1. ตัวโน้ตตัวกลม

2. ตัวโน้ตตัวขาว

3. ตัวโน้ตตัวดำ

4. ตัวโน้ตตัวเข็บบิต 1 ชั้น


28.  หมายถึงข้อใดต่อไปนี้

1. ตัวโน้ตตัวกลม

2. ตัวโน้ตตัวขาว

3. ตัวโน้ตตัวดำ

4. ตัวโน้ตตัวเข็บบีต 1 ชั้น

29.  Eighth Note หมายถึงข้อใดต่อไปนี้

1. ตัวโน้ตตัวกลม

2. ตัวโน้ตตัวขาว

3. ตัวโน้ตตัวดำ

4. ตัวโน้ตตัวเข็บบีต 1 ชั้น

30.  หมายถึงข้อใดต่อไปนี้

1. เครื่องหมาย ชาร์ป

2. เครื่องหมาย แฟล็ต

3. เครื่องหมาย เนเจอร์ล

4. เครื่องหมาย ประจูด

